



Høydekurver, målestokk og ekvidistanse



Målestokk

Målestokken angir forholdet mellom kartet og det virkelige terrenget.

Målestokk 1:10000

1 cm på kartet tilsvarer **10000 cm** i terrenget

= 100 meter

(stryk de to siste nullene)

Målestokk 1:10 000
Ekvidistanse 5m



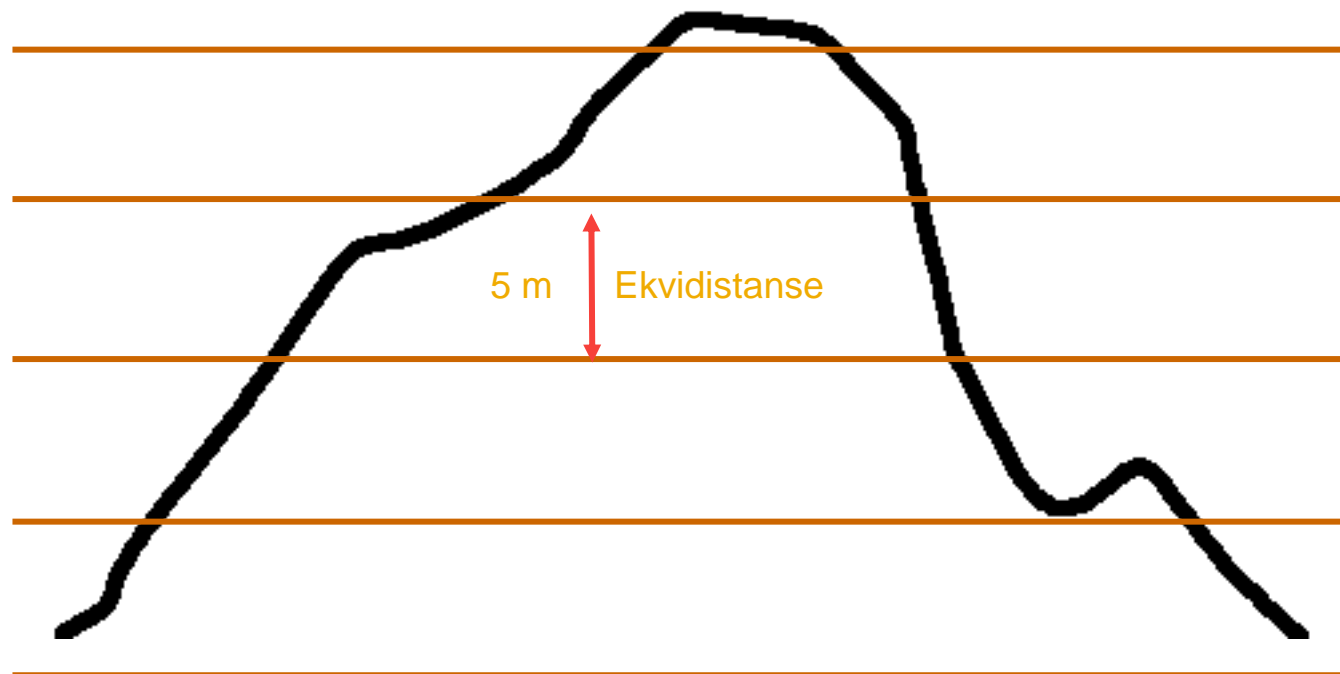
VILT
VAKKERT
OG RÅTT



noname

Ekvidistanse

- Høydeforskjell = Ekvidistansen (ekv.)
- Det er et mål for hvordan den loddrette høydeforskjellen i terrenget beskrives.
- Mest vanlig ekvidistanse på orienteringskart er 5 meter og på turkart fra 10-20 meter.



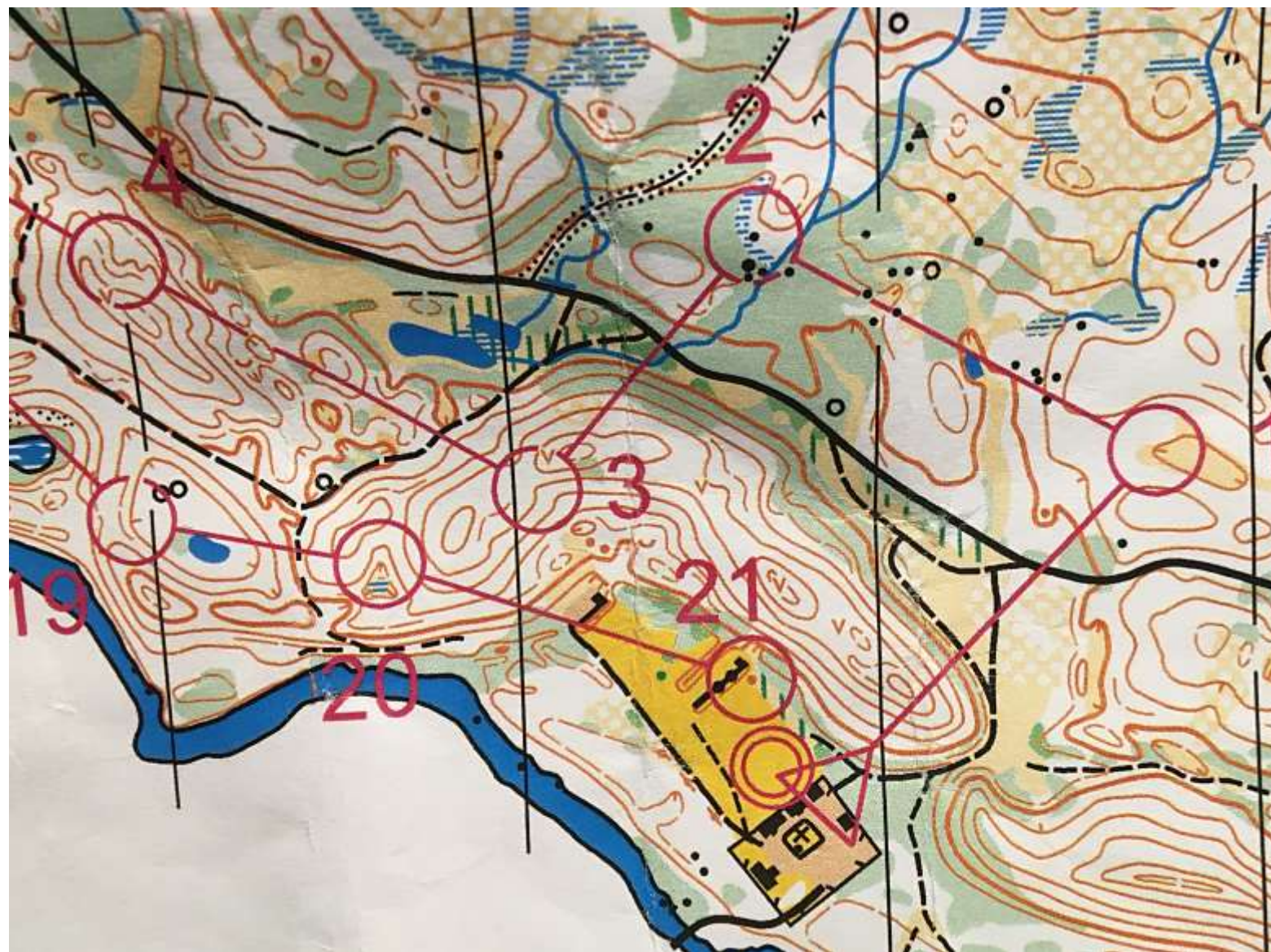
VILT
VAKKERT
OG RÅTT



noname

Høydekurver

Utsnitt av orienteringskartet Nørdalen Nord



VILT
VAKKERT
OG RÅTT



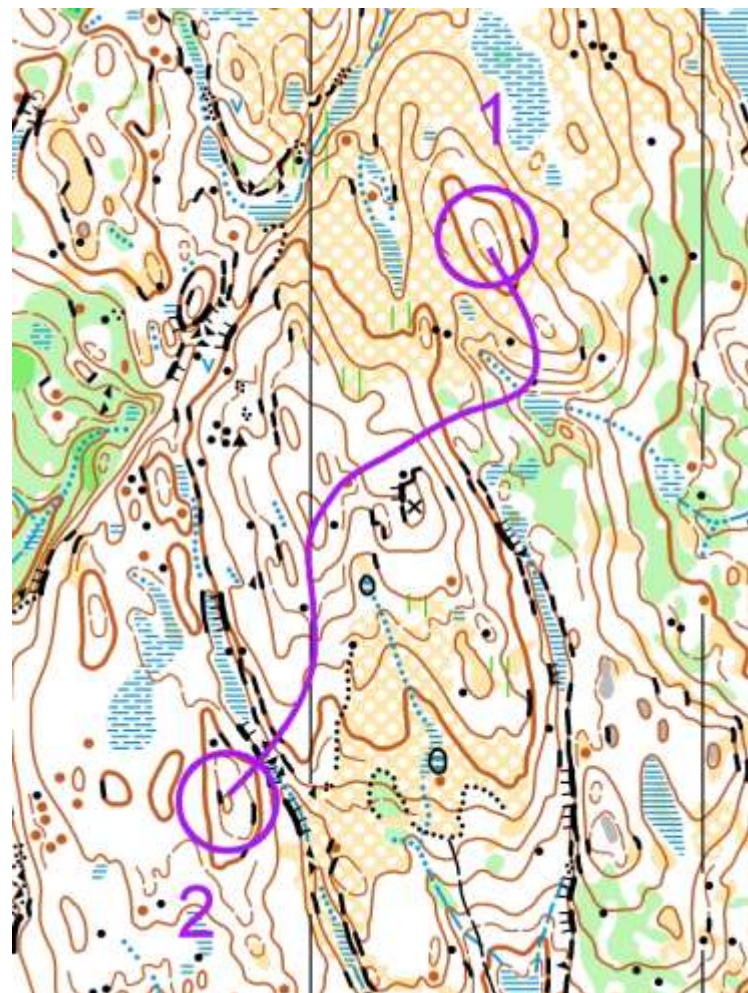
noname

Øvelse: Trene på å forstå høydekurver

Følg den lilla linjen på kartet fra 1. til 2. post:

1. Hvor går det opp og ned ?
2. Hvor mange meter omtrent går det opp og ned? 5 meter ekv.
3. Tellekurver, hva er det?
4. Er tellekurver tydeligere i terrenget enn vanlige kurver?

Kartutsnitt: Gjerdrum OL



VILT
VAKKERT
OG RÅTT

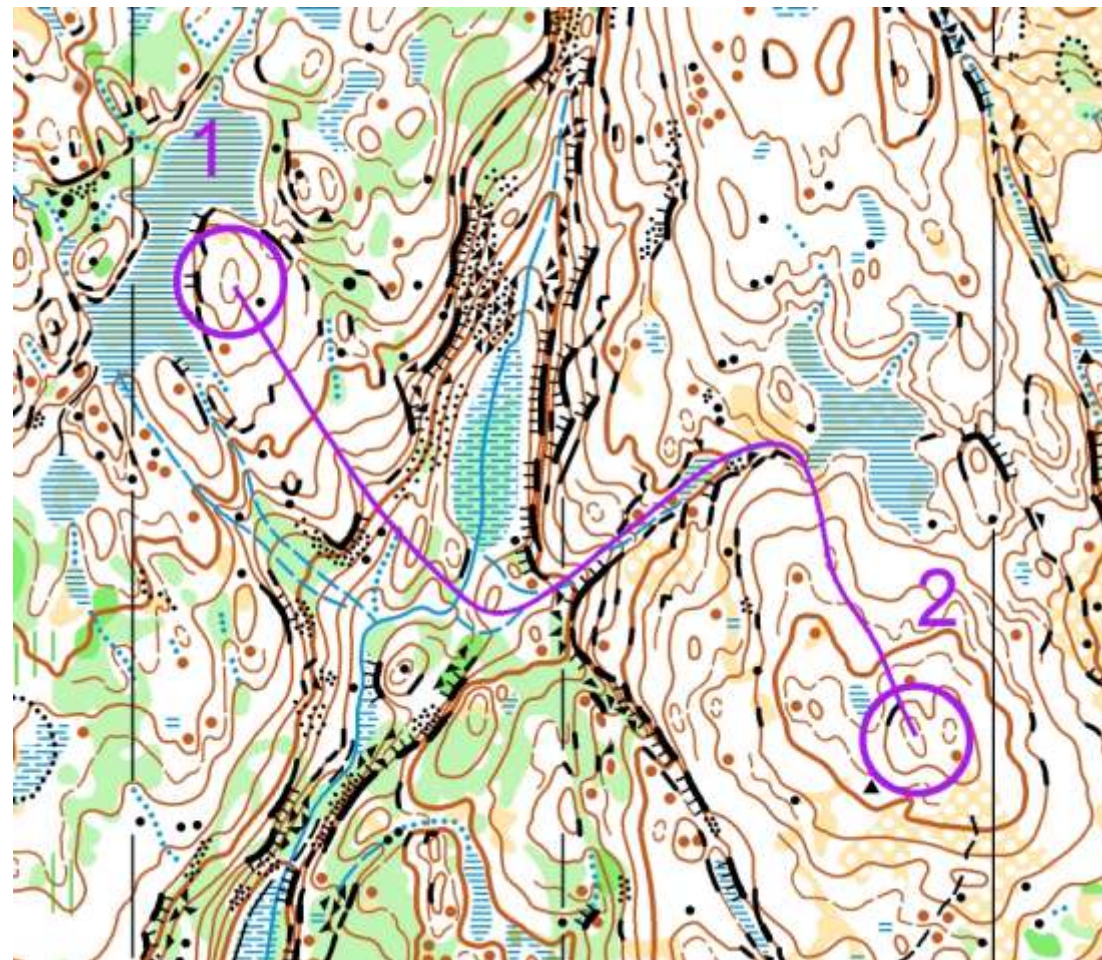


noname

Øvelse: Trene på å forstå høydekurver

Følg den lilla linjen på kartet fra 1. til 2.post

1. Hvor går det opp og ned ?
2. Hvor mange meter omtrent går det ned og opp? 5 meter ekv.
3. Hvor er det tydelige koller?
4. Hvor er det laveste punktet og hvor er det høyeste punktet ?
5. Målestokken er 1:10000. Ca. hvor langt er det i luftlinje mellom post 1. og 2.?



VILT
VAKKERT
OG RÅTT



noname

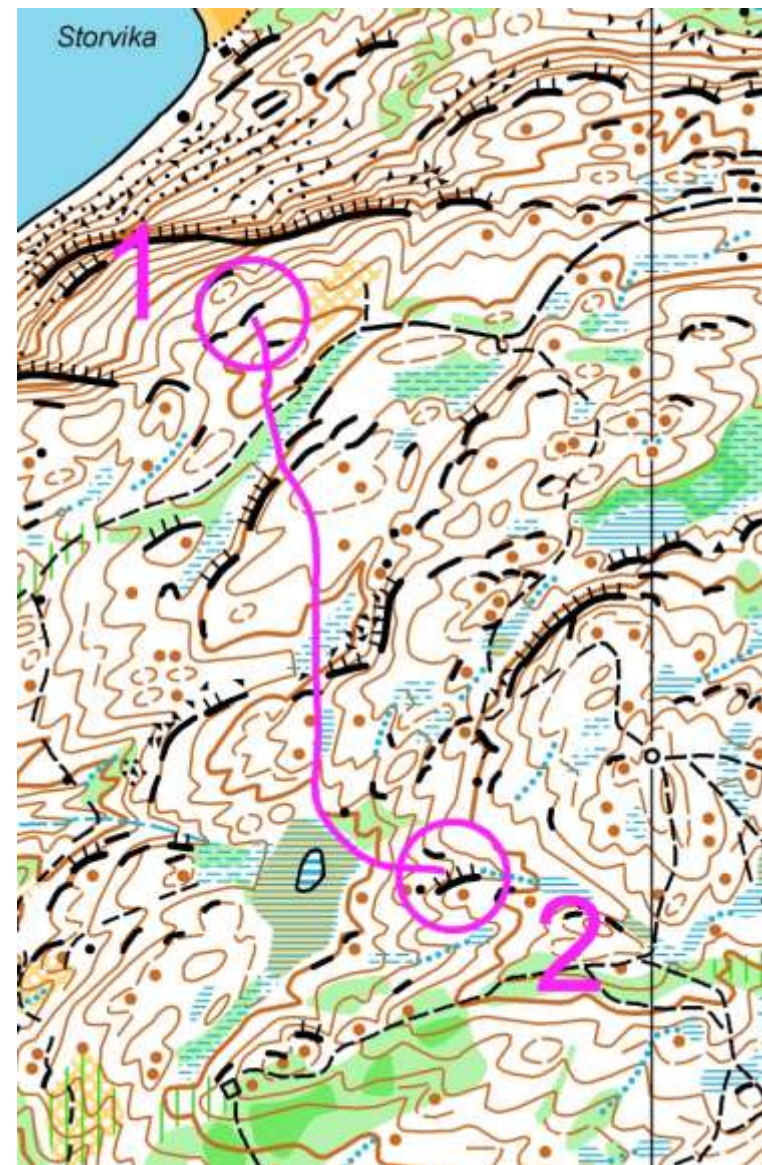
Kartutsnitt: Gjerdrum OL

Øvelse:

Følg den lilla linjen på kartet
fra 1. til 2.post

1. Hvor går det opp og ned ?
2. Hvor mange meter omtrent går det opp fra den åpne myra før 2. post og til posten? 5 meter ekv.
3. Hvilke tydelige holdepunkter passerer du underveis mellom postene?

Utsnitt: Forrøya, Sørreisa OL



VILT
VAKKERT
OG RÅTT

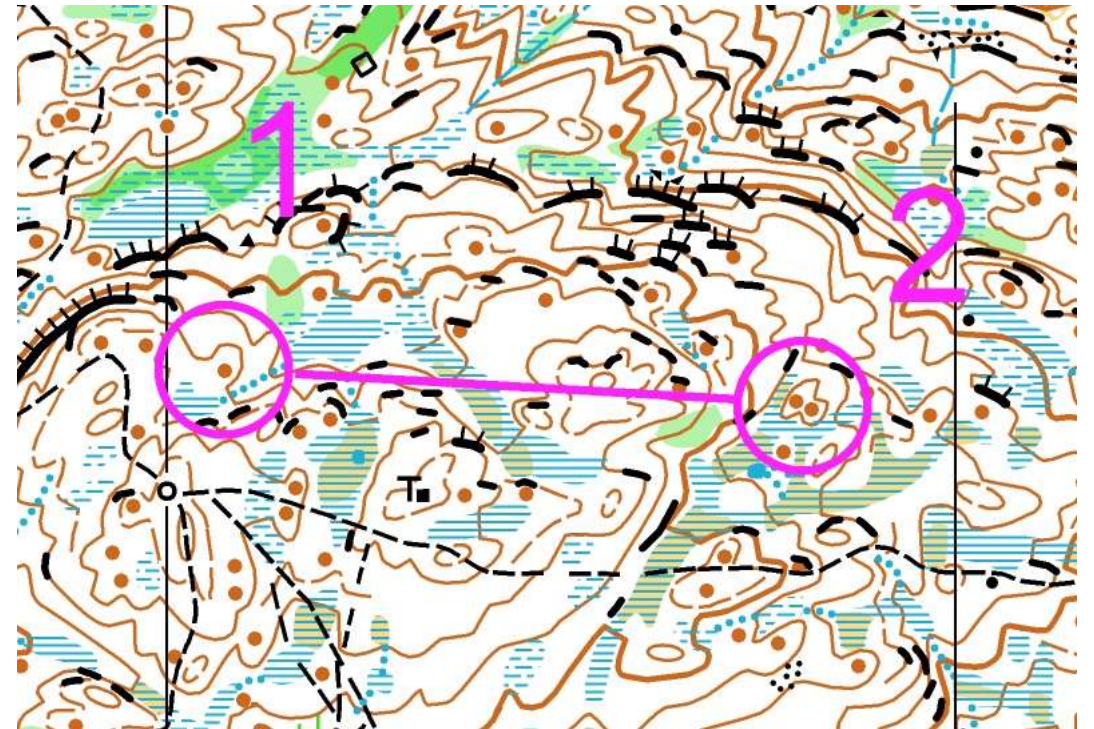


noname

Du skal gå fra post 1 til post 2

1. Hvilket veivalg vil du ta til post 2 ?
2. Går det mest opp eller ned fra post 1 til post 2 ?
3. Ca. hvor stor høydeforskjell er det mellom post 1 og post 2 ?

Utsnitt: Forrøya, Sørreisa OL

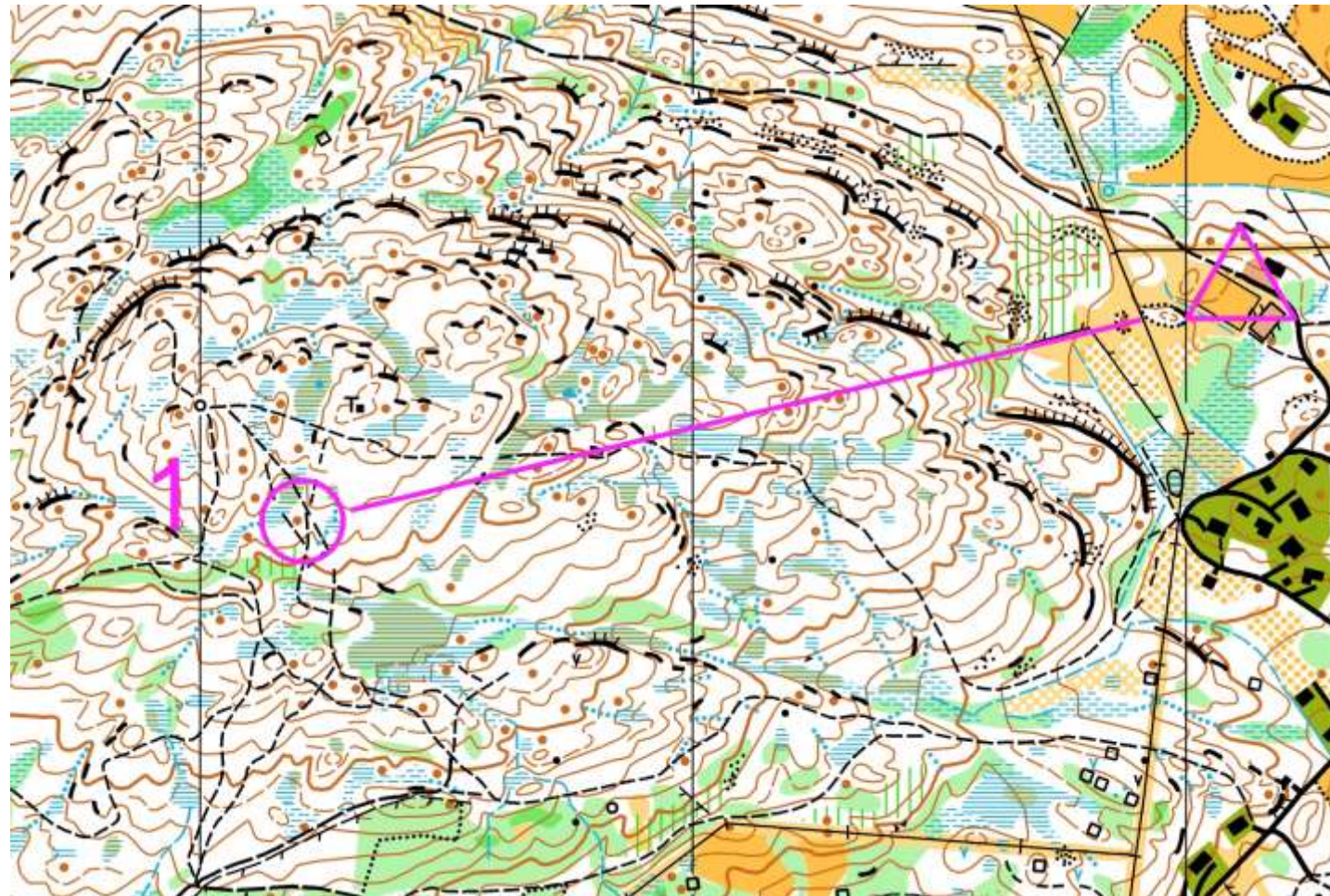


VILT
VAKKERT
OG RÅTT



noname

Hvilket Veivalg tar du til post 1?



VILT
VAKKERT
OG RÅTT



noname

Kart og kompass - QUIZ

<https://create.kahoot.it/details/dbcd45f7-db23-4983-aaf9-ff34d6873501>



noname